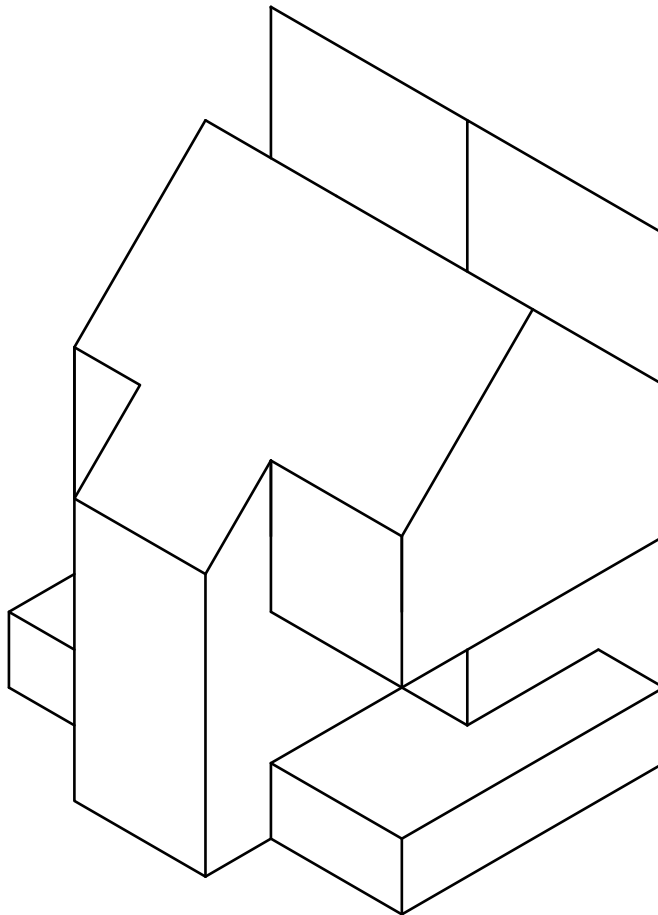
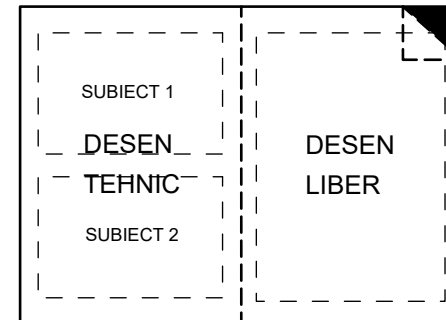


SCHEMA DE PAGINARE

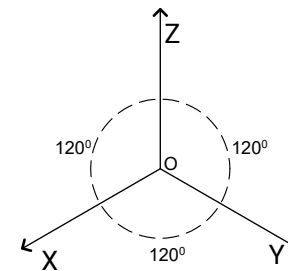


DESEN TEHNIC


Subiect 1

PENTRU VOLUMUL REPREZENTAT ÎN
AXONOMETRIE IZOMETRICĂ SE CERE:

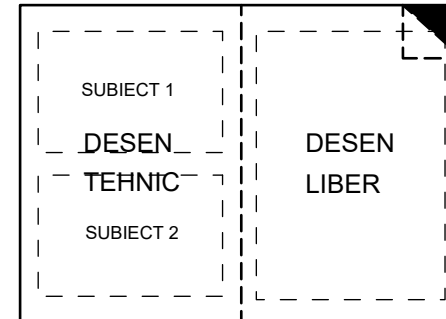
REPREZENTAREA CELOR 3 PROIECȚII
ORTOGONALE (FRONTALĂ, LATERALĂ
STÂNGA, ORIZONTALĂ).
SE VOR UTILIZA DIMENSIUNILE DATE ÎN
DESEN.



SISTEMUL DE REFERINȚĂ
UTILIZAT ÎN REPREZENTAREA
AXONOMETRICĂ IZOMETRICĂ



SCHEMA DE PAGINARE

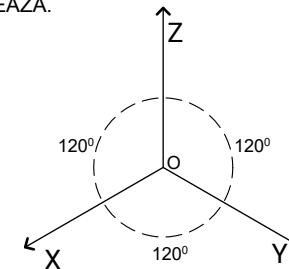


DESEN TEHNIC

Subiect 2

PENTRU VOLUMUL SIMETRIC PE DOUĂ DIRECȚII, REPREZENTAT ÎN PROIECȚIE FRONTALĂ ȘI PROIECȚIE ORIZZONTALĂ, SE CERE:

REPREZENTAREA AXONOMETRICĂ IZOMETRICĂ DIN DIRECȚIA **R**. SE VOR UTILIZA DIMENSIUNILE DATE ÎN DESEN. AXONOMETRIA IZOMETRICĂ NU SE HAȘUREAZĂ.



SISTEMUL DE REFERINȚĂ UTILIZAT ÎN REPREZENTAREA AXONOMETRICĂ IZOMETRICĂ

