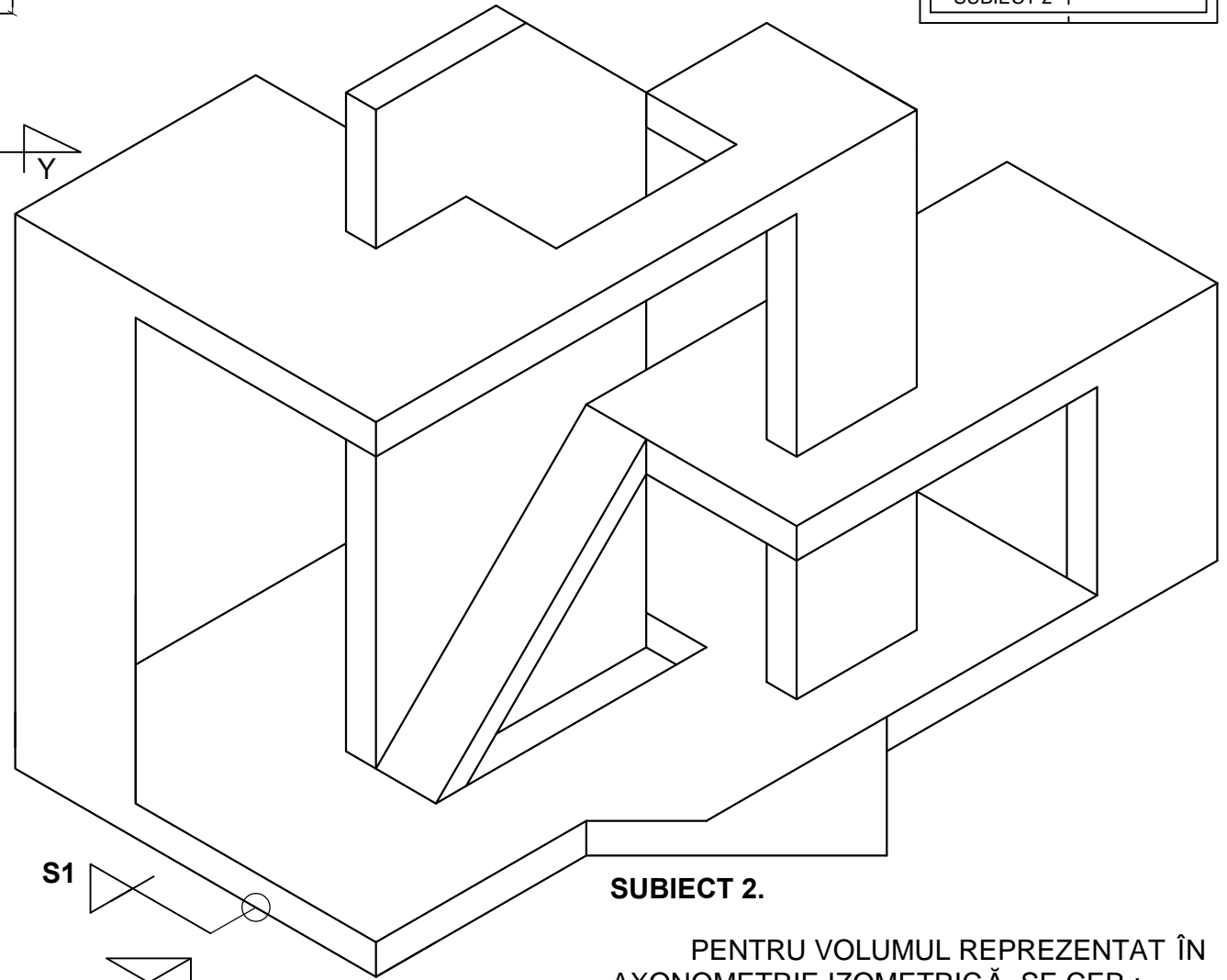
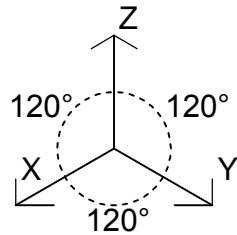
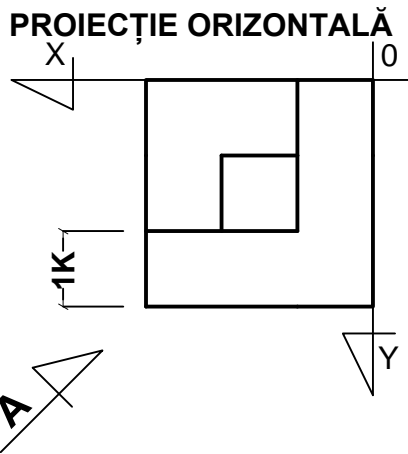
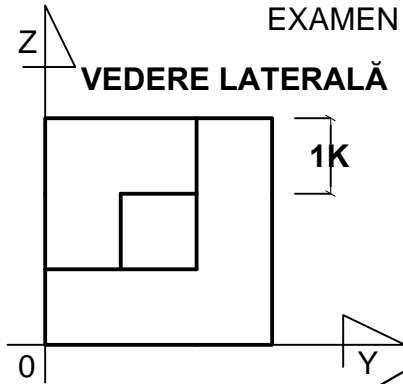
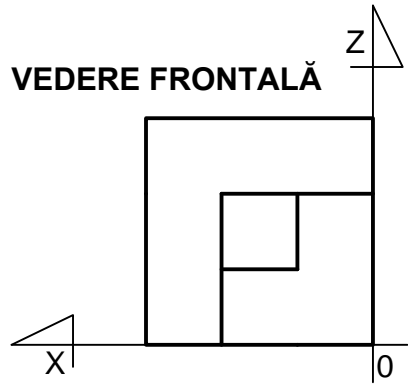


DESEN TEHNIC

UNIVERSITATEA TEHNICĂ "GHEORGHE ASACHI" DIN IAȘI
FACULTATEA DE ARHITECTURĂ "G.M.CANTACUZINO"
EXAMEN DE ADMITERE SEȘIUNEA IULIE 2016

PAGINARE

DESEN TEHNIC		
SUBIECT 1		
S1	L1	DESEN LIBER
SUBIECT 2		



SUBIECT 1.

SE DĂ VOLUMUL REPREZENTAT PRIN
PROIECȚIA ORIZONTALĂ, VEDERE
FRONTALĂ ȘI VEDERE LATERALĂ.

- SE CERE :

REPREZENTAREA VOLUMULUI ÎN
AXONOMETRIE IZOMETRICĂ DIN DIRECȚIA
"A", MARCATĂ PE PLAN. SE VA CONSIDERA
MODULUL $1K = 3\text{ CM}$

SUBIECT 2.

PENTRU VOLUMUL REPREZENTAT ÎN
AXONOMETRIE IZOMETRICĂ, SE CER :

- SECȚIUNE VERTICALĂ **S1**
- VEDERE LATERALĂ **L1**